

BALADES LUDIQUES POUR PETITS ET GRANDS

Campagne



© Randoland



Visiter,
se balader,
s'amuser!

Dordogne
PÉRIGORD
LE DÉPARTEMENT dordogne.fr

Conseil départemental
de la Dordogne
Service Tourisme et Développement
Touristique
Tél. : 05 53 02 01 30
rando.cd24@dordogne.fr
www.rando.dordogne.fr

Moyen



2,6 km

1h30

Campagne

Départ: Office de Tourisme

GPS: 44.90689N / 0.97555E

Le château de Campagne est une propriété départementale située sur la commune de Campagne, à proximité du Bugue, dans la vallée de la Vézère. La forêt de 345 hectares qui l'abrite est divisée en deux massifs séparés par la route départementale 35. Le parcours nord est riche d'un patrimoine naturel et historique très ancien.

La forêt de Campagne se caractérise par une multitude d'essences et de stations forestières. La grande diversité des milieux rencontrés lui donne un aspect tout à fait original: formation à chênes verts, pelouses calcaires, hêtraie, charmaie... Cette forêt reflète sur certaines zones la physionomie typique du Périgord: chênes pubescents, châtaigniers, noisetiers... Le chevauchement ou la proximité

d'un grand nombre de milieux favorise la diversité faunistique du site. Les cervidés (cerfs, chevreuils) et les sangliers sont bien implantés, ainsi que la faune forestière habituelle: blaireau, renard, fouine, écureuil, lièvre...

Du château du XII^e siècle, probablement un château de plaine doté de douves, il ne subsiste aucune trace visible. L'édifice actuel est une propriété du Département. Il se compose de deux logis en équerre dont la partie la plus ancienne date du XV^e siècle. La limite nord du domaine est fermée par les dépendances. Le parc, redessiné entre 1852 et 1862 par un pépiniériste bordelais, est parcouru par un ruisseau ponctué de pièces d'eau, cascades et petits ponts à balustrades.

Carnet de route

Soyez vigilants avec vos enfants. Quelques passages entre le point 3 et le point 5 peuvent être difficiles, notamment par temps humide et pour les très jeunes enfants. Le Conseil départemental de Dordogne et la société Randoland déclinent toute responsabilité en cas d'accident.

Par temps humide, de bonnes chaussures sont recommandés.

Départ au parking de la forêt, face au camping (sur la route de Saint Cyprien). Observer le panneau des Boucles de Campagne ①.

Suivre le panneau « Sentier de découverte ».

Traverser « l'escalier des Dames » ②.

Continuer sur le chemin et s'arrêter devant le panneau de la « Réserve Biologique du Domaine départemental de Campagne » ③.

Suivre le balisage « Bike park ». Tourner ensuite à droite en direction de la cible n° 6 de tir à l'arc sur votre droite. Arriver à la cible 6 ④.

Après une longue côte et de nombreux virages, remarquer les panneaux présentant les traces de quelques animaux ⑤.

Continuer la montée jusqu'au Point de vue. Profiter de la vue sur la vallée de la Vézère. Observer également le panneau sur « Les Rapaces » ⑥.

Continuer le chemin en suivant le

fléchage. passer devant le panneau « La Charmaie » ⑦.

Continuer la descente en suivant le fléchage « Retour ».

Arriver en haut de l'Escalier des Dames et s'arrêter devant le panneau « Les Cluzeaux » ⑧.

Descendre l'Escalier des Dames pour reprendre à gauche le chemin emprunté à l'aller.

Ne pas hésiter à poursuivre la balade dans le Parc du Château de Campagne.



Campagne



Cherche où l'inspecteur Rando va se rendre et par où il va passer ?
 Trace le chemin emprunté par l'inspecteur Rando en utilisant les informations de la page suivante.
 Chaque fois qu'il empruntera une échelle rouge, colorie, dans l'ordre, les chapeaux de sorcière de la frise en bas de page.
 En fin de parcours, note dans la case réponse le nombre de chapeaux coloriés.



© randoland 2017. Illustrations : Armelle Drouin.

Tu peux te rendre sur le site www.randoland.fr pour vérifier ta réponse (code énigme 2407601P).

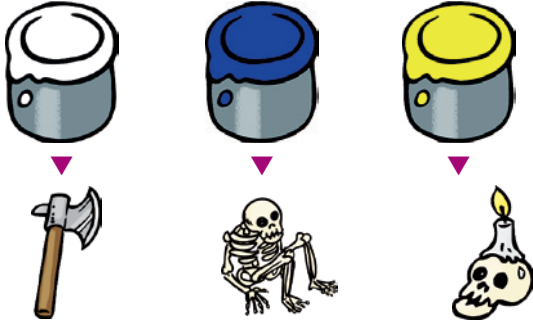
10 small witch hats in a row, each above a number from 1 to 10.

Ta réponse



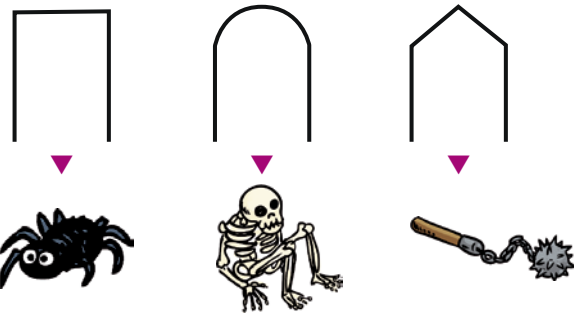
1 Panneau des boucles de Campagne

Quelle est la couleur de la boucle du Polissoir ?
Tu vas découvrir la première étape de l'Inspecteur Rando.




2 L'escalier des Dames

Quel dessin correspond aux formes que tu peux voir autour des escaliers ?



3 La réserve biologique

Quel type d'animal est présent sur ce panneau ?



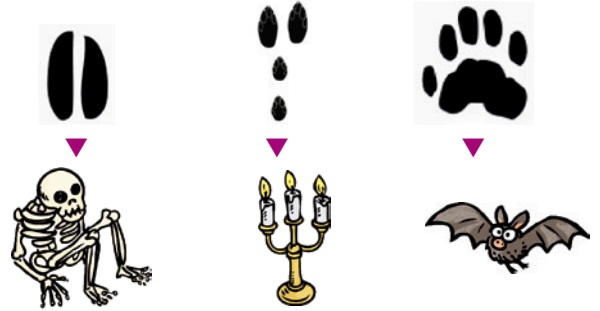
4 Cible n° 6

De quel objet as-tu besoin pour pratiquer le sport inscrit sur le panneau ?




5 Les animaux

Quelle est la trace du blaireau ?




6 Les rapaces

De quel objet as-tu besoin pour observer les rapaces ?




7 La charmais

Combien d'empreintes de feuilles comptes-tu autour du panneau ?



8 Les cluzeaux

Quelle photo représente les cluzeaux ?



ÉNIGME

Le château de Campagne a une longue histoire derrière lui. De style à la fois médiéval et Renaissance, la demeure s'élève aujourd'hui sur un plan en forme de « L ». Une tour carrée prolongée par un corps de logis juxte le bâtiment principal. Les grandes fenêtres et les toitures datent de la Renaissance. L'aile située au nord, avec une galerie ouverte sur cour, date quant à elle du XVII^e siècle.

Mentionné dès 1360 comme le « Castrum de Campania », il appartenait aux évêques de Bordeaux. En 1405, le seigneur de Limeuil s'en empare et le cède aux Anglais en 1409.

Mais quel était le nom de ce seigneur ?

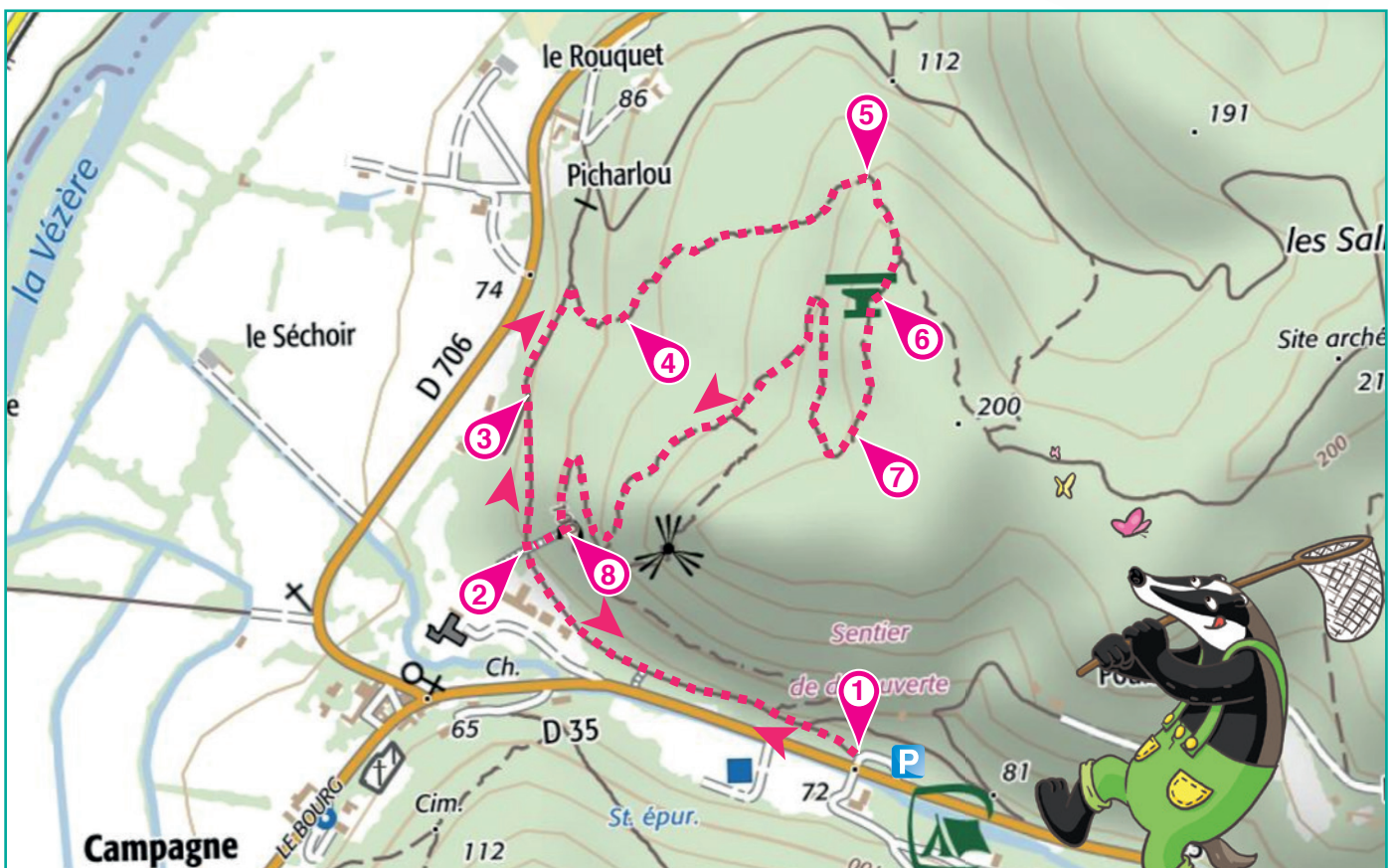
Pars vite, avec l'Inspecteur Rando, à la recherche des indices qui te permettront de retrouver son nom.



Tu disposes du plan ci-dessous.

À l'emplacement des pastilles numérotées, lis les indications qui te permettront de résoudre l'énigme principale.

À la fin de ta balade, rends-toi sur le site randoland.fr pour vérifier ta réponse.





Pour toutes les activités de cette fiche, reporte dans la grille de bas de page les réponses trouvées en face des nombres correspondants.

1 Panneau des boucles de Campagne

Regarde bien le panneau et plus particulièrement la boucle du polissoir. À quoi correspond la photo représentant le numéro 4 ?

Reporte, dans la grille, les lettres qui composent ta réponse, mais en les classant par ordre alphabétique.

Ex. : CURIOSITE → CEIIORSTU

2 L'escalier des Dames

Deux amis discutent des formes que l'on peut voir autour des escaliers.

JORDAN : Ce sont des arcs de cercle que l'on voit !
MARGOT : Tu te trompes, ils ont une forme triangulaire !


KARIMA : Pas du tout, ce sont de grands rectangles !

Reporte, dans la grille, le prénom de la personne qui a raison.

3 La réserve biologique

Trois enfants ont pris en photo des oiseaux rencontrés au cours de leur balade. Un seul de ces oiseaux n'est pas représenté sur le panneau.

Inscris, dans la grille, le prénom de l'enfant qui l'a photographié.



JORDAN

KARIMA

MARGOT

4 Cible n° 6

Comment s'appelle l'objet que l'on doit tirer sur la cible ?

Inscris dans la grille le nom de cet objet.



5 Les animaux

Trois amis ont dessiné les traces d'un blaireau, mais seulement l'un d'eux a réussi, les autres se sont trompés d'animaux.



MARINE



JORDAN



MAËLLE

Reporte dans la grille, le prénom de la personne qui a raison.

6 Les rapaces

Quel objet te permet un rapprochement de 20 à 60 fois et est destiné aux observations lointaines dans des milieux ouverts.

Reporte dans la grille ta réponse.

7 La charmais

Lis le panneau la charmais.

En sous-bois le camerisier à balais est très fréquent avec un autre arbre, lequel est-ce ?

Reporte dans la grille le nom de cet arbre.

8 Les cluzeaux

Quel matériau est représenté par un quadrillage sur le panneau.

Inscris ta réponse dans la grille.

Grille réponse

Circuit n° 2407601M

| | | | | | | | | | | |
|-----|---|---|---|--|---|---|--|---|--|--|
| 1 > | ■ | | | | | | | | | |
| 2 > | | ■ | | | | | | | | |
| 3 > | | | | | | ■ | | | | |
| 4 > | ■ | | | | | | | | | |
| 5 > | ■ | | | | ■ | | | | | |
| 6 > | | | ■ | | | | | - | | |
| 7 > | | | ■ | | | | | | | |
| 8 > | | ■ | | | | | | ■ | | |



Remets en ordre les caractères des cases colorées pour retrouver le nom du seigneur de Limeuil.

Ta réponse :





Campagne

ÉNIGME

Régulièrement, il est possible d'effectuer des visites guidées à thème dans la ballée enceinte du château de Campagne.

Un groupe d'amis a effectué une balade nocturne à la découverte des chauves-souris. Tout le monde est très attentif aux explications données par le guide. La balade permet de découvrir successivement les quatre unités paysagères de la composition du Parc : la coulée verte, la presqu'île, la serpentine et le potager.

La promenade terminée, nos amis s'aperçoivent qu'un des membres du groupe a disparu. On appelle par son prénom la personne manquante... Pas de réponse ! L'inquiétude grandit, de petits groupes partent à la recherche du touriste perdu quand soudain, dans un grand éclat de rire, réapparaît celui (ou celle) qui a causé tant de frayeur.

Parviendras-tu à retrouver l'identité de l'étourdi qui s'était égaré ?



© Randoland

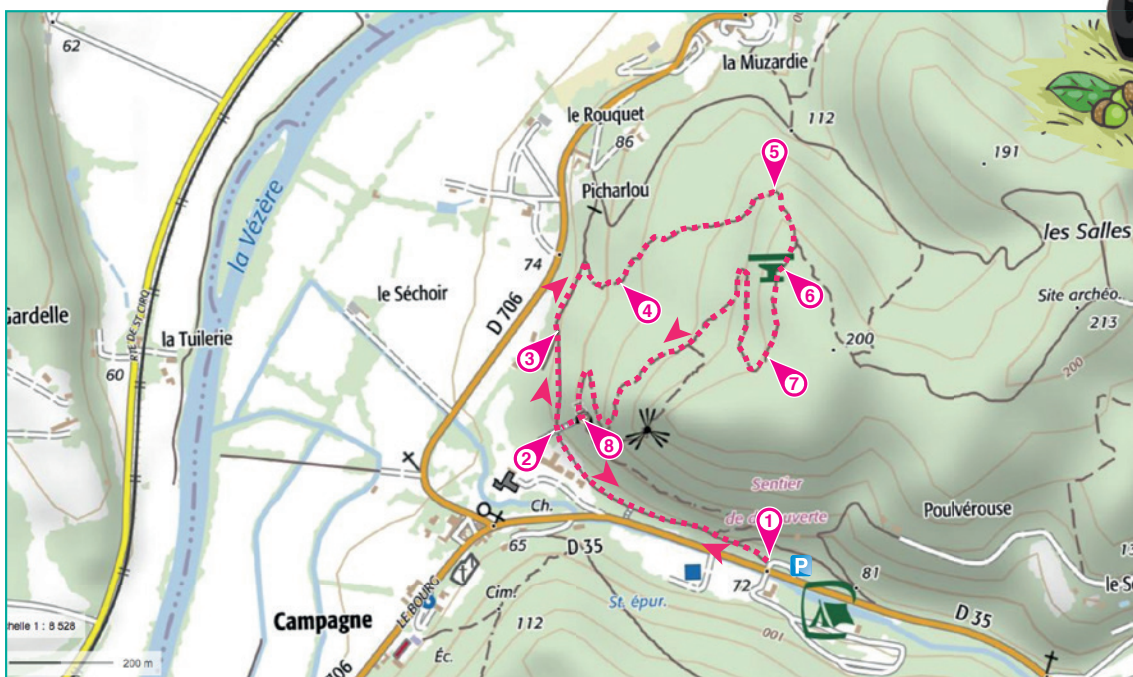
LES PARTICIPANTS

- ▶ **Aude Vesselle** - Née le 31 juillet 1980 à La Bugue
- ▶ **Élise Émoi** - Née le 5 juin 1991 à Sergeac
- ▶ **Eric Hochet** - Né le 8 janvier 1989 à Paunat
- ▶ **Jacques Célert** - Né le 30 janvier 1987 à Meyrals
- ▶ **Lucie Fer** - Née le 22 avril 1992 à Mouzens
- ▶ **Nadine Amo** - Née le 27 février 2000 à Marnac
- ▶ **Paul Ution** - Né le 14 mai 1998 à Manaurie
- ▶ **Sarah Vigote** - Née le 24 mars 1995 à Tursac
- ▶ **Thierry Chmonfils** - Né le 12 mars 1995 à Campagne

Tu disposes du plan ci-dessous.

À l'emplacement des pastilles numérotées, lis les indications qui te permettront de résoudre l'énigme principale.

À la fin de ta balade, rends-toi sur le site randoland.fr pour vérifier ta réponse.





Lors du passage devant chacun des indices lis attentivement les indications fournies. Elles te permettront de résoudre l'énigme posée au verso de cette page.

1 Panneau des boucles de Campagne

Regarde bien le panneau et plus particulièrement la boucle du polissoir. À quoi correspond le numéro 1?

Calcule la valeur de ce mot, sachant que les voyelles valent + 3 et les consonnes - 1.

Ex. : TOI $\rightarrow -1 + 3 + 3 = 5$

Un des participants est né le même jour que ton résultat. Ce n'est pas le vainqueur, tu peux donc le rayer de la liste.

2 L'escalier des Dames

Paul, Jacques et Thierry sont allés au stand de tir avec l'inspecteur Rando. L'un d'eux a effectué un score égal au nombre d'arcs de cercle que tu peux voir au-dessus des escaliers. Le personnage recherché n'a pas ce prénom !



JACQUES

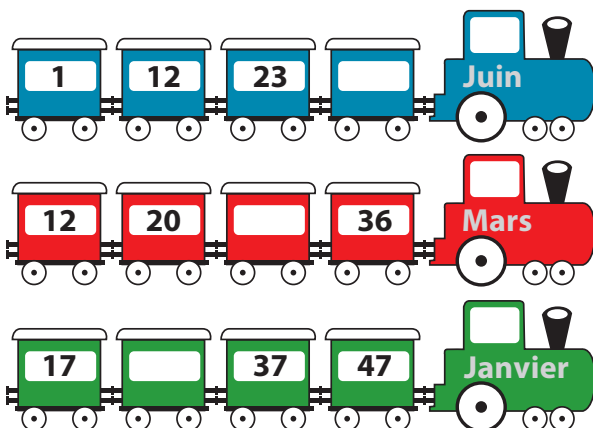
PAUL

THIERRY

3 La réserve biologique

Observe le panneau et trouve la surface, en hectares, de la réserve biologique dirigée.

Dans quel train peux-tu placer logiquement ta réponse ?



Le vainqueur n'est pas né le mois inscrit sur le train où tu as pu inscrire ta réponse.

4 Cible n° 6

Si tu mélanges les deux couleurs présentes sur le panneau (sans le noir), quelle couleur obtiens-tu ?

Le vainqueur n'a pas la première lettre de la couleur que tu viens de trouver dans sa ville de naissance.

5 Les animaux

Trouve, sur le panneau qui parle du blaireau, la période où les femelles mettent bas leurs petits. Le vainqueur est né durant cette période !

6 Les rapaces

Une fois devant le panneau des rapaces, trouve lequel a la plus grande envergure ?

La ville de naissance du vainqueur ne commence pas par la première lettre du nom du rapace que tu viens de trouver.



7 La charmais

Le Charme donne un bois clair et dense très prisé comme combustible et pour la fabrication du charbon de bois, mais pour quoi d'autre est-il également utilisé ?

Le nombre de lettres du prénom et du nom du vainqueur n'est pas le même que le nombre de lettres du mot que tu viens de trouver.

8 Les cluzeaux

En quel matériau étaient fabriqués les outils qui ont vraisemblablement réalisé les cluzeaux de Campagne ?

La ville de naissance du vainqueur ne commence pas par la même lettre que le matériau que tu viens de trouver.

Tu devrais avoir retrouvé le nom du farceur.

Circuit n° 2407601G

Ta réponse: